

□□1

72まいの画用紙を□まいずつくばったら、9人にくばることができました。画用紙を1人に何まいくばったでしょう。

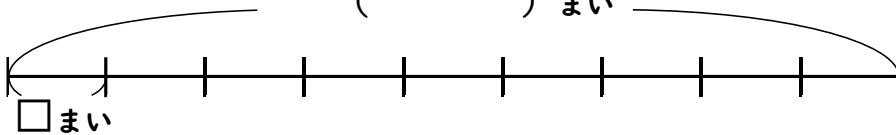
ことばの式と図

□にことばを、( )に数をかきましょう。

$$\square \div \square = \square$$

$$(\quad) \div \square = (\quad)$$

( )まい



式 □を使った式をかいて、答えをもとめましょう。

ヒント

分けた人数

全部の数

72

9

答え

□□2

ボールが□こあります。1箱にボールを3こずつ入れたら、3こ入りの箱が7箱できました。ボールは全部で何こありましたか。

式 □を使った式をかいて、答えをもとめましょう。

答え



□□1

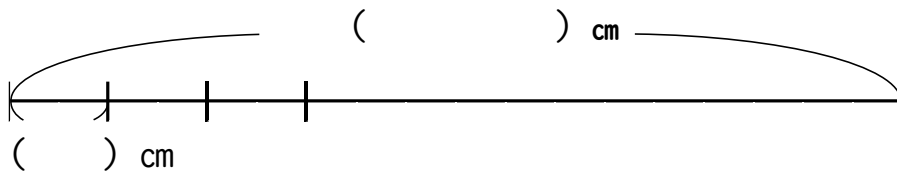
450cmのリボンを、同じ長さずつ□本に切ると、1本の長さは50cmになりました。リボンを何本に切ったでしょう。

ことばの式と図

□にことばを、( )に数をかきましょう。

$$\boxed{\quad} \div \boxed{\text{切った本数}} = \boxed{\quad}$$

$$(\quad) \div \boxed{\quad} = (\quad)$$



ヒント

全体の長さ

1本の長さ

450

50

式 □を使った式をかいて、答えをもとめましょう。

答え

□□2

42まいの画用紙を同じまい数ずつ6人にくばったところ、1人に□まいくばることができました。画用紙を1人に何まいくばったでしょう。

式 □を使った式をかいて、答えをもとめましょう。

答え





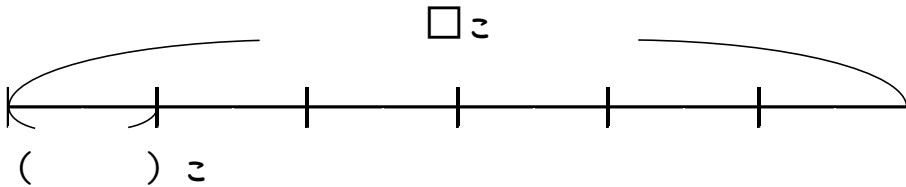
ボールが□こあります。1箱にボールを4こずつ入れたら、4こ入りの箱が6箱できました。ボールは全部で何こありましたか。

ことばの式と図

□にことばを、( )に数をかきましょう。

$$\square \div \square = \square$$

$$\square \div (\quad) = (\quad)$$



ヒント

全部の数

箱の数

1箱の数

4

6

式 □を使った式をかいて、答えをもとめましょう。

答え



320cmのリボンを、同じ長さずつ□本に切ると、1本の長さは40cmになりました。リボンを何本に切ったでしょう。

式 □を使った式をかいて、答えをもとめましょう。

答え

